

個人タクシー地理試験問題

(大阪市域)

注意事項

- 1 . 試験時間は、14時45分～15時45分です。
- 2 . 試験開始まで、問題用紙は開けないでください。
- 3 . 運転免許証及び試験通知書は、試験官の見やすい通路側の端に出しておいてください。
- 4 . 筆記用具以外のものは、机の上に置かないでください。(但し、虫めがねは可)
- 5 . 問題用紙は、表紙を含めて12枚です。(別添地図を含む)
- 6 . 問題用紙は、持ち帰っていただいて結構です。
- 7 . 不正な行為をされた場合は、直ちに受験を停止し、退場していただくこととなります。
- 8 . 解答が終わり退場する方は、手をあげて試験官が来るまで待っていてください。試験官が許可してから、他の受験者に迷惑とならないよう静かに退場してください。

携帯電話をお持ちの方は、必ず電源を切ってください。

近畿運輸局

問題 1 . 次の文章のうち正しいものには 印を、誤っているものには x 印を
解答用紙に記入しなさい。

- 1 . 阪和病院の最寄駅は、JR 阪和線では杉本町駅です。
- 2 . 大阪国際会議場(グランキューブ大阪)は、近くを通る府道 4 1 号線(なにわ筋) よりも東側にあります。
- 3 . 帝国ホテル大阪は、天満労働基準監督署よりも西側にあります。
- 4 . 杭全神社は、近くを通る JR 関西本線(大和路線) よりも南側にあります。
- 5 . 白鷺病院は、杭全交差点から市道大阪環状線(今里線) を今川 2 交差点に走行した場合左側にあります。東住吉区
- 6 . 藤田美術館は、近くを通る京阪電鉄本線よりも北側にあります。
- 7 . 第 2 サニーストンホテルは、蔵人交差点から国道 4 7 9 号線を泉町 1 交差点に走行した場合右側にあります。吹田市
- 8 . 大阪東急インは、近くを通る国道 4 2 3 号線よりも西側にあります。
- 9 . 常磐会学園大学は、平野本町 5 交差点から府道 1 8 6 号線(大阪羽曳野線) を長吉出戸南交差点に走行した場合左側にあります。
- 1 0 . チサンホテル心斎橋は、近くを通る府道 1 0 2 号線(堺筋) よりも西側にあります。
- 1 1 . 此花警察署は、梅香交差点から市道福島桜島線(北港通) を島屋交差点に走行した場合左側にあります。
- 1 2 . 大阪南労働基準監督署は、近くを通る南海電鉄本線よりも東側にあります。
- 1 3 . 大阪キリスト教短期大学は、近くを通る府道 3 0 号線(あべの筋) よりも東側にあります。
- 1 4 . 大阪国際交流センターは、大阪入国管理局天王寺出張所よりも西側にあります。
- 1 5 . いずみホールは、近くを通る JR 大阪環状線よりも西側にあります。
- 1 6 . ザ・シンフォニーホールは、大淀中 1 交差点から府道 4 1 号線(なにわ筋) を福島 6 交差点に走行した場合右側にあります。
- 1 7 . 白山病院は、近くを通る JR 東海道新幹線よりも北側にあります。
- 1 8 . 門真郵便局は、試験場前南交差点から府道 1 5 号線(八尾茨木線) を試験場入口交差点に走行した場合右側にあります。
- 1 9 . 堺税務署は、大阪府泉北府税事務所よりも南側にあります。堺市
- 2 0 . 門真公共職業安定所(ハローワーク門真) は、門真税務署よりも南側にあります。
- 2 1 . アクア文化ホールの最寄駅は、阪急電鉄宝塚線では曽根駅です。
- 2 2 . 泉北郵便局は、片蔵西交差点から府道 6 1 号線(堺かつらぎ線) を和田西交差点に走行した場合右側にあります。
- 2 3 . 堺西社会保険事務所は、石津北交差点から府道 2 0 4 号線(堺阪南線) を石津川橋南詰交差点に走行した場合左側にあります。
- 2 4 . 豊中郵便局は、千里川交差点から国道 1 7 6 号線を桜塚交差点に走行した場合右側にあります。
- 2 5 . 河内郵便局は、河内警察署よりも右側にあります。

問題 2 . 下記の幹線道路において、() に入る最も適切な経由地 (交差点等) を下から選び、その番号を解答用紙に記入しなさい。

なお、この問題は、A , B の選択問題です。下記の A , B のうち、どちらか 1 つを選び、解答する方を解答用紙の (A ・ B) 欄に で囲んでから解答を始めなさい。

A

- 1 . 国道 2 号線
千船 2 - 御幣島 - (1) - 野里
- 2 . 市道天神橋天王寺線 (松屋町筋)
天神橋 - (2) - 釣鐘町 2 - 内平野町 2
- 3 . 国道 1 6 3 号線
巢本 - (3) - 団地北入口 - 打越
- 4 . 国道 1 7 6 号線
桜塚 - 曾根 - (4) - 庄内東町
- 5 . 府道 1 3 号線 (京都守口線)
大日 - 大日東町 - (5) - 金田町 2

宮前町	稲津町	内本町 2
歌島橋	柳町	庭窪中前
仁和寺	阪急バス前	島町 2
新佃公園前		

B

- 1 . 府道 3 0 号線 (あべの筋)
あべの近鉄前 - 阿倍野 - (1) - 北畠
- 2 . 市道天神橋天王寺線 (松屋町筋)
農人橋 - 松屋町 - (2) - 下寺町
- 3 . 府道 2 1 号線 (八尾枚方線)
河内中野南 - 菱江 - (3) - 楠根町 4
- 4 . 国道 2 5 号線
亀井東 - 跡部 - (4) - 志紀南
- 5 . 府道 2 0 8 号線 (堺泉北環状線)
美木多上 - 庭代台南 - (5) - 泉田中北

松虫	播磨町	穴太
太子堂	二俣	学園坂
若江南	瓦屋町 2	日鷲露台東
赤坂台北		

問題 3 . 下記施設の位置を別添地図上の番号から選び、その番号を解答用紙に記入しなさい。

なお、この問題は、A , B の選択問題です。下記の A , B のうち、どちらか 1 つを選び、解答する方を解答用紙の (A ・ B) 欄に で囲んでから解答を始めなさい。


A

- イ . 東朋病院
- ロ . ツチ病院
- ハ . 北浜郵便局
- ニ . 大阪府立吹田養護学校
- ホ . 甲聖会記念病院
- ヘ . 小曽根病院
- ト . 都島消防署
- チ . 大阪市立都島図書館
- リ . 聖和病院
- ヌ . 都島休日急病診療所

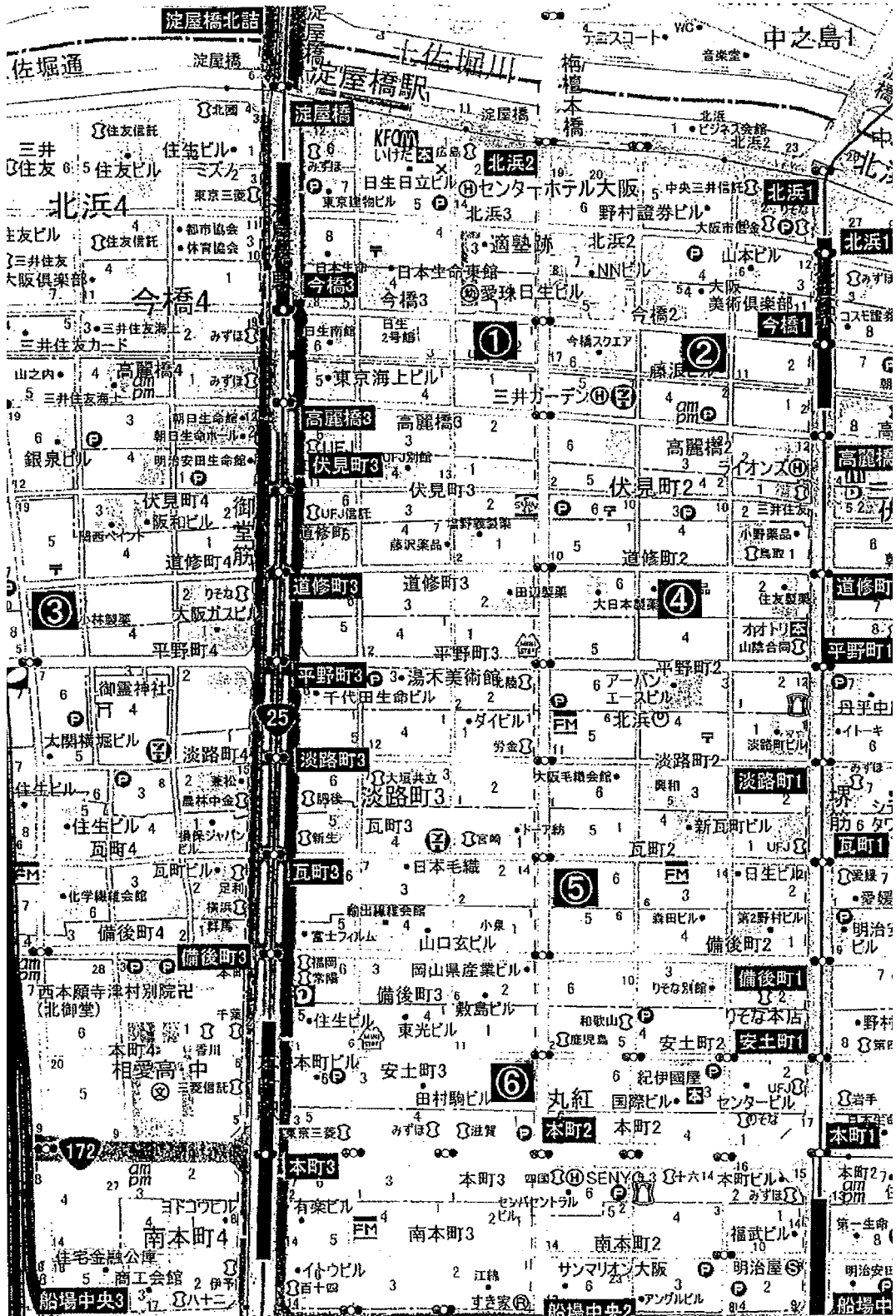
B

- イ . なにわ病院
- ロ . 堺北警察署
- ハ . 浪速消防署
- ニ . 堺消防署
- ホ . 堺労働基準監督署
- ヘ . 西消防署
- ト . 大野記念病院
- チ . 浪速区民センター
- リ . 大阪西労働基準監督署
- ヌ . 西区保健福祉センター

別添地図（大阪市域）

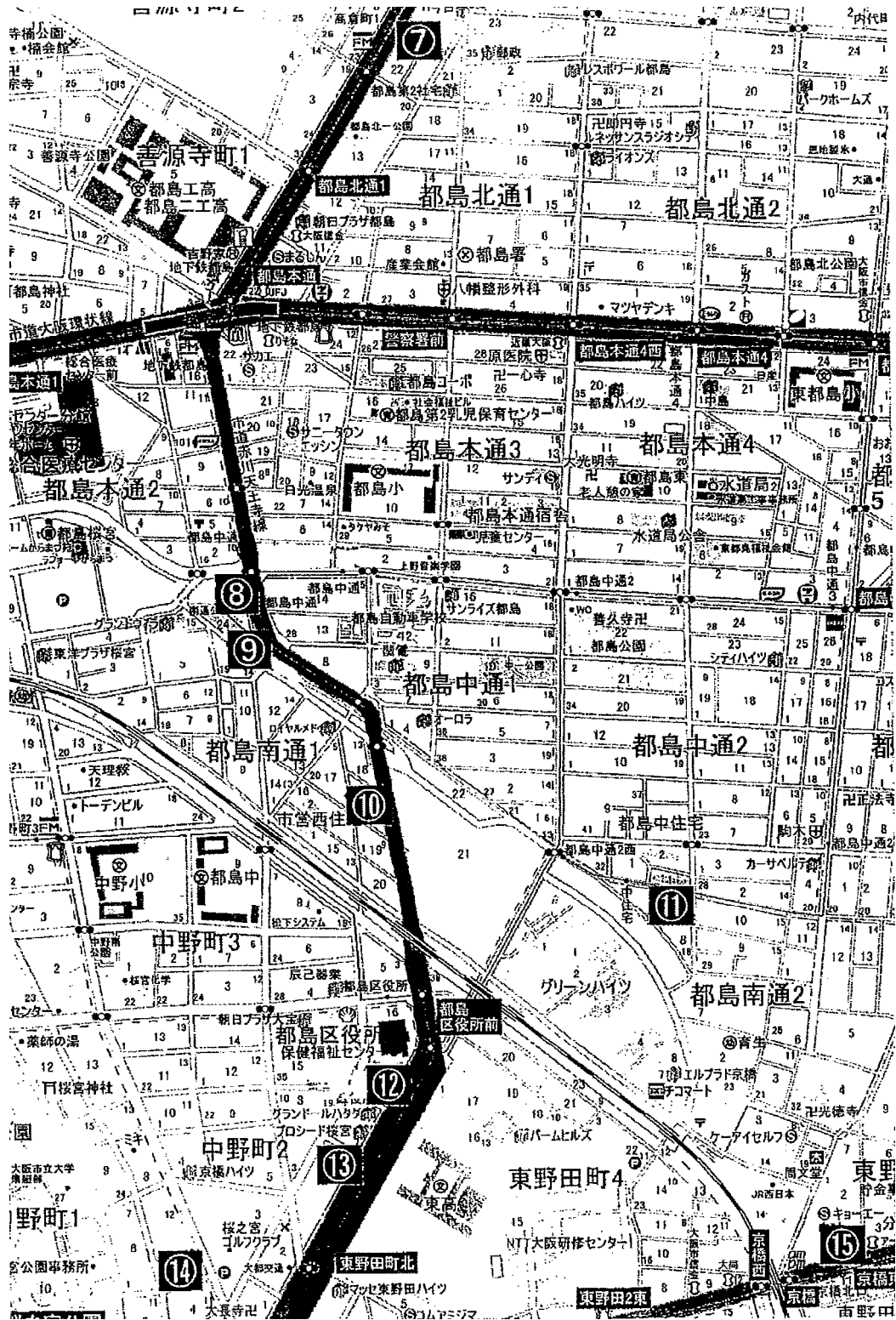


上を真北とする



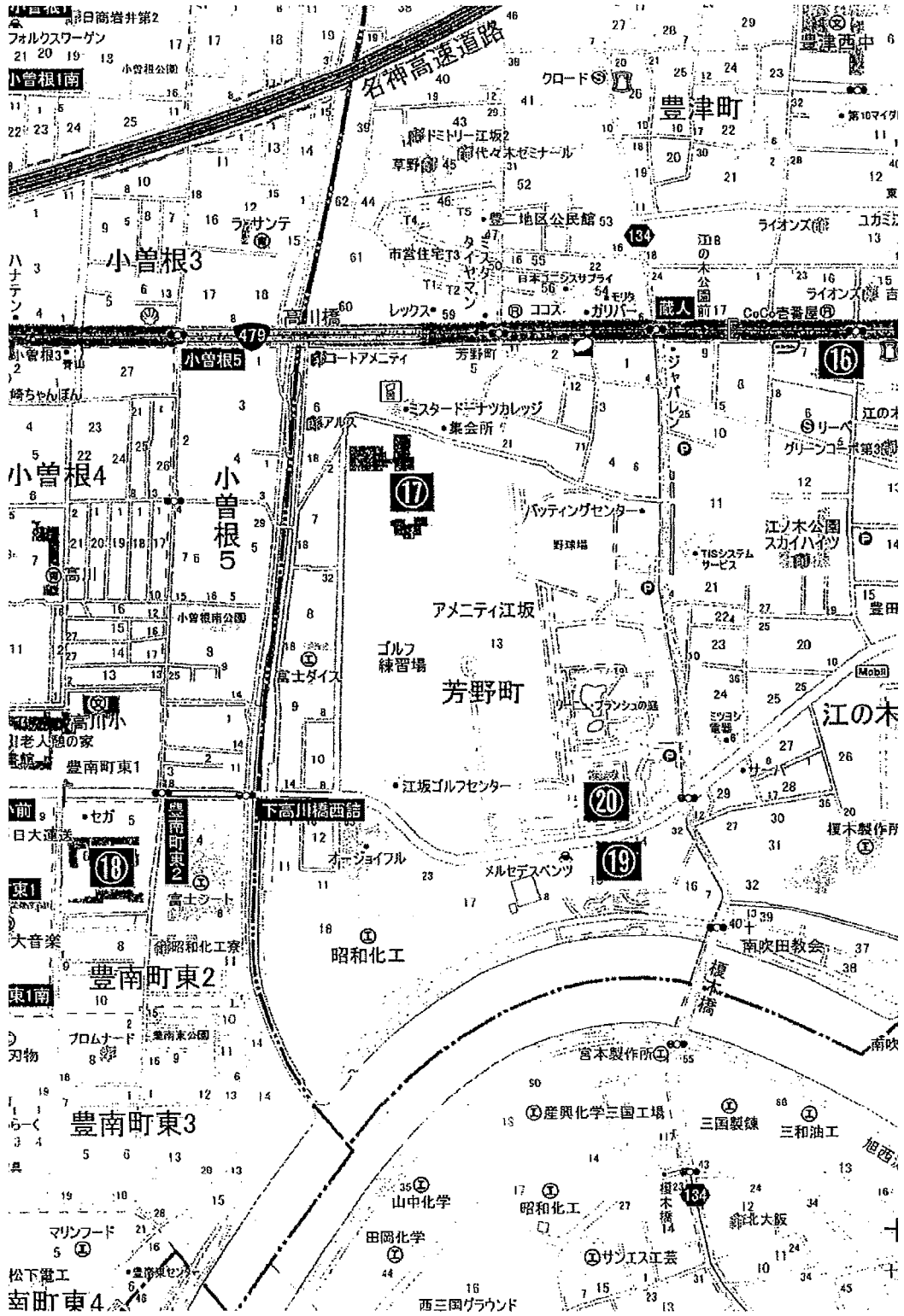
(A - 1)

上を真北とする




(A - 2)

上を真北とする

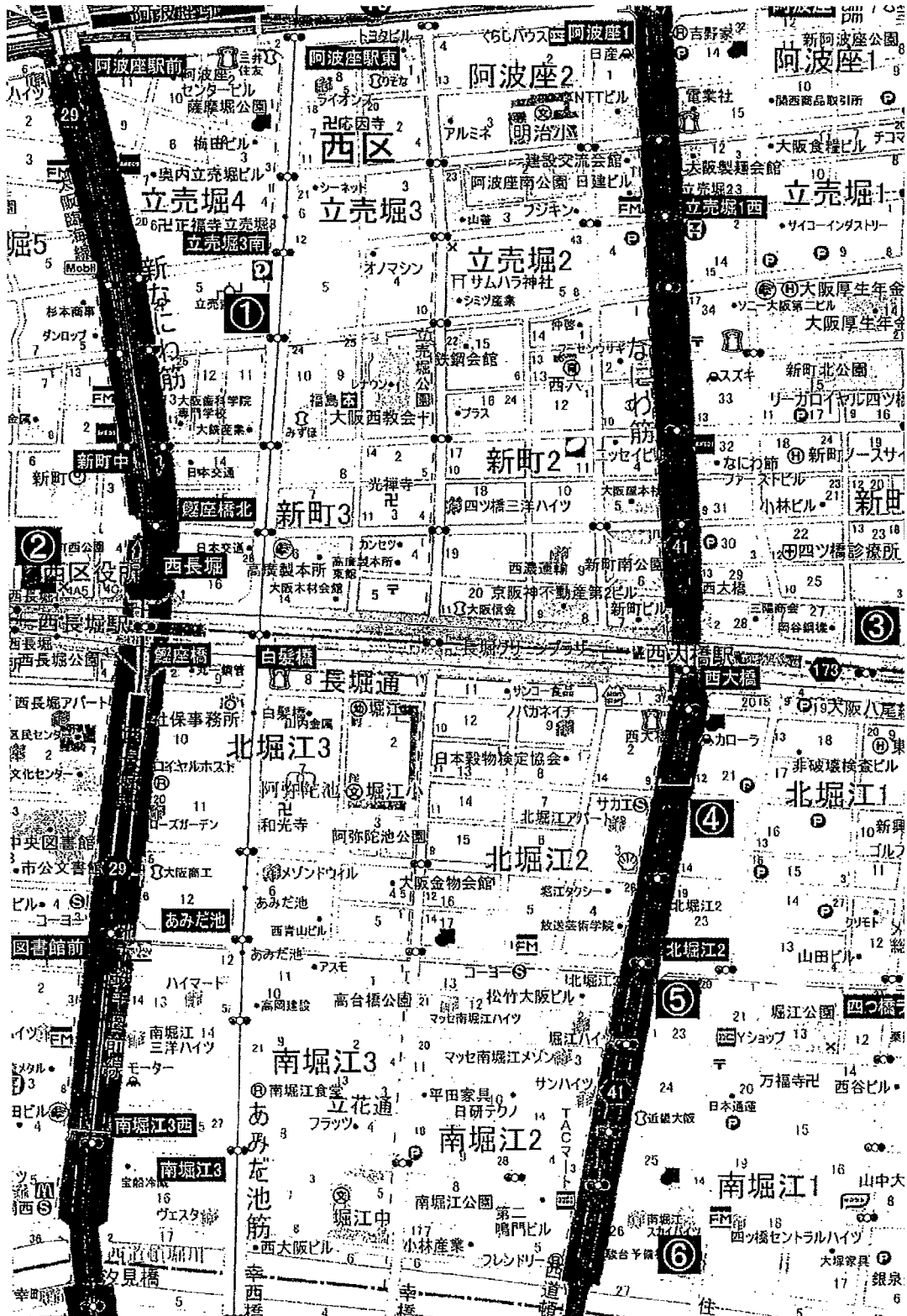


(A - 3)

別添地図（大阪市域）

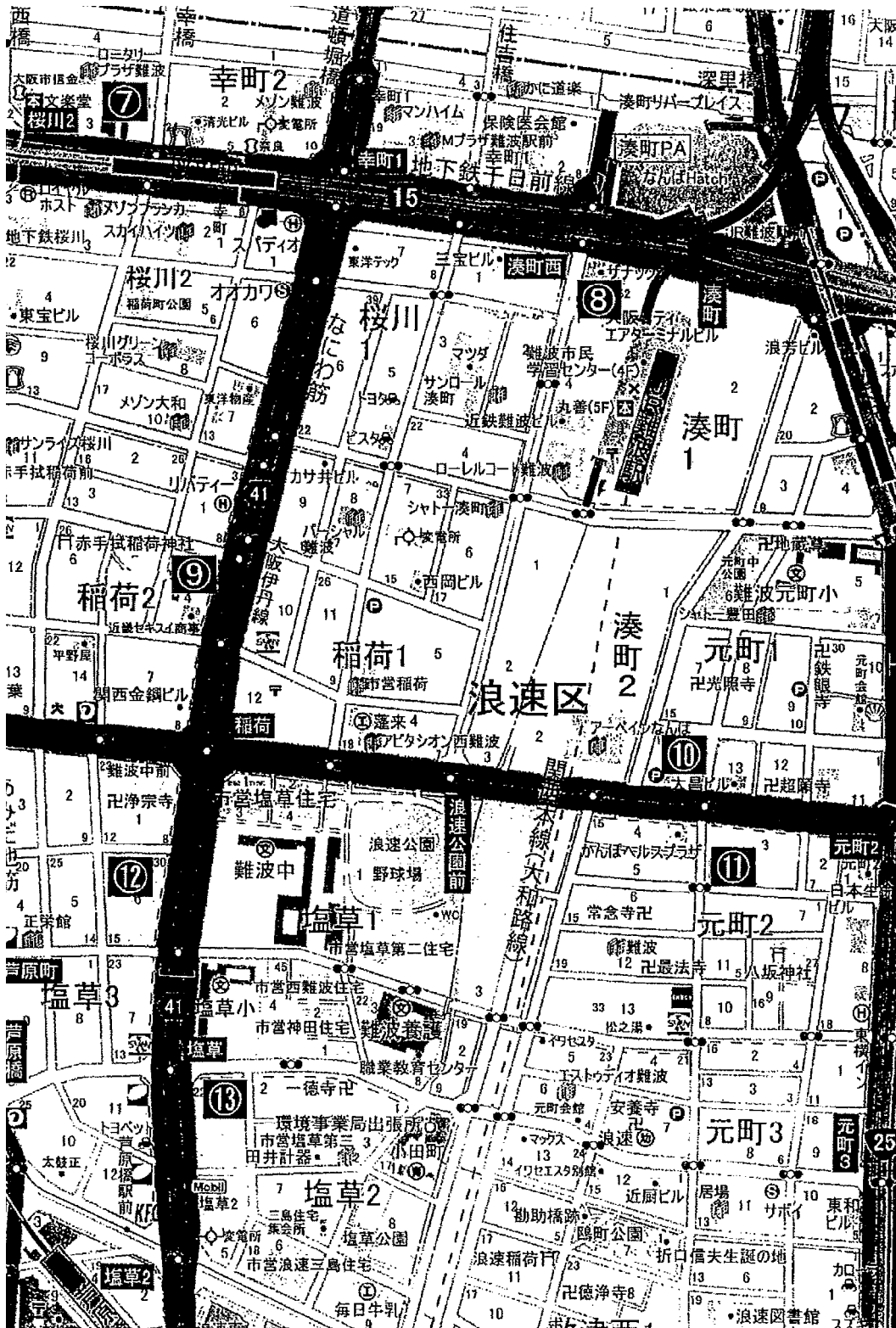


上を真北とする



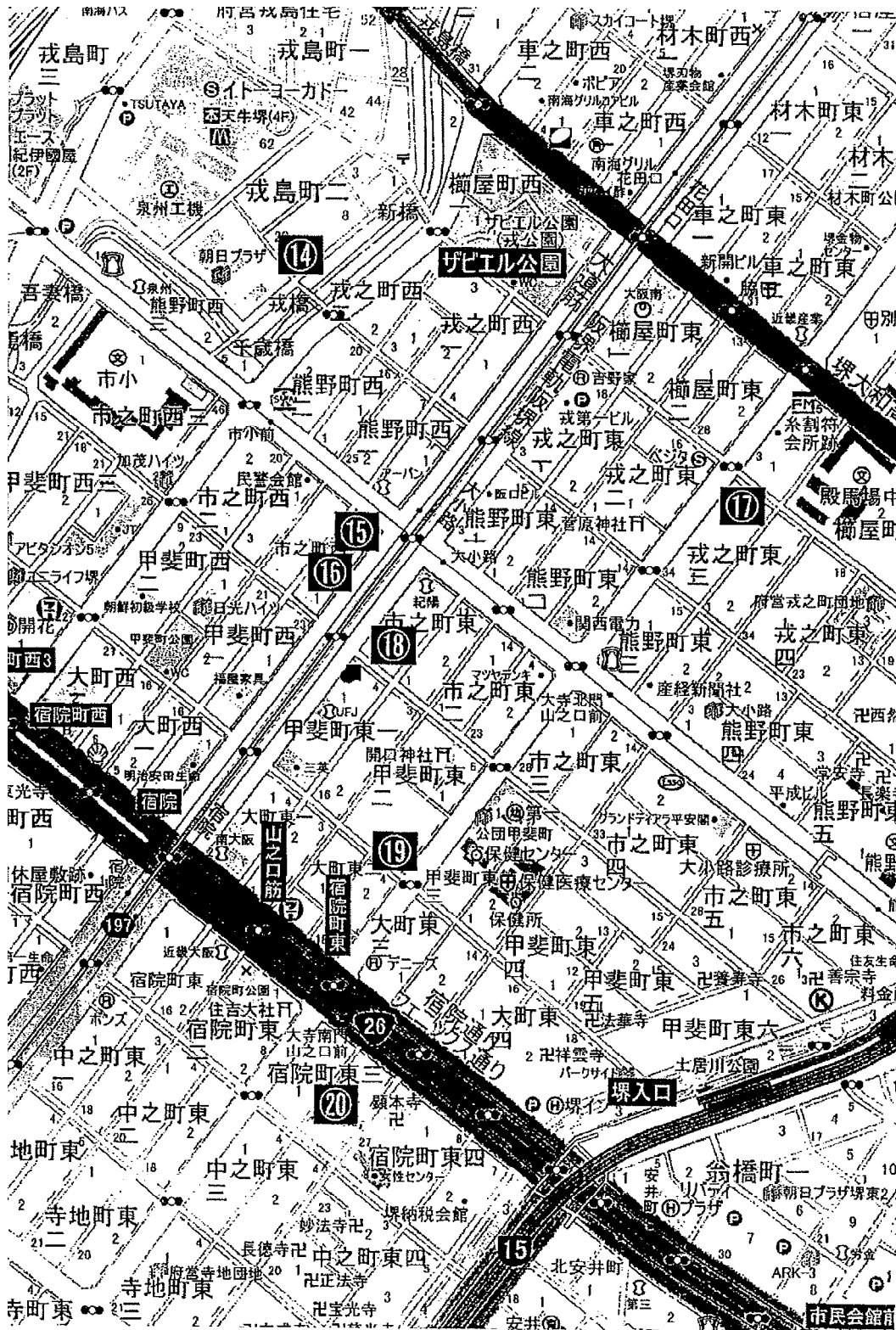
(B - 1)

上を真北とする



(B - 2)

上を真北とする



(B - 3)